

باسمه تعالی

وزارت آموزش و پرورش

مدیریت آموزش و پرورش شهرستان سلماس  
پیش دبستان و دبستان غیر انتفاعی دخترانه ستایش

نام و نام خانوادگی:

نام درس: ریاضی

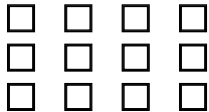
تاریخ آزمون: ۱۴۰۱/۱۰/۱۷

نوبت اول

۱ عزیزانم الگوهای زیر را ادامه دهید.

..... و ..... و ..... و ۳۰۰ و ۲۰۰ و ۱۰۰  
..... و ..... و ..... و ۱۰۴۵ و ۱۰۳۵ و ۱۰۲۵  
..... و ..... و ..... و ۱۸ و ۹ و ۰

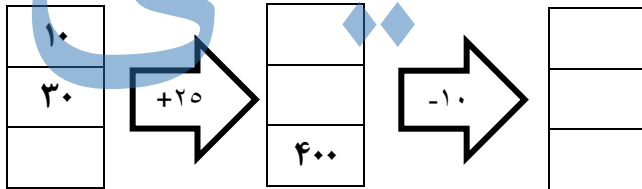
۲ شکل زیر را به دو روش دسته بندی کنید و حاصل جمع را بنویسید.



روش اول:

روش دوم:


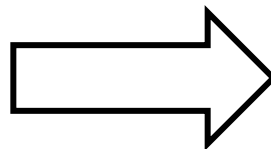
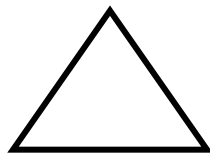

۳ جا های خالی را پر کنید.



۴ جدول زیر را کامل کنید.

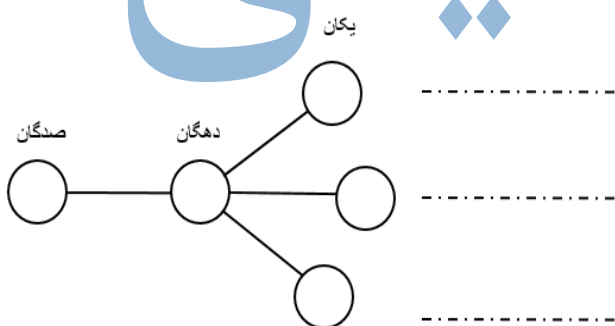
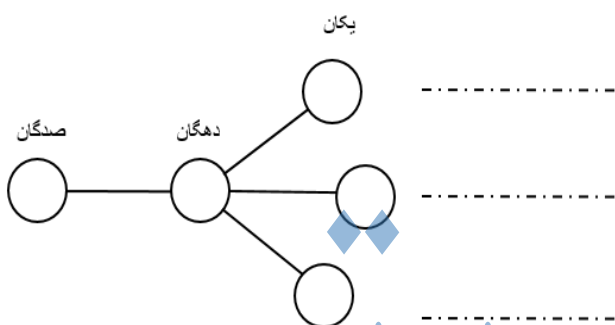
زمان	۱۵		۱۳:۱۸	۴		۹
بعد از ظهر		۲:۱۵			۲۱:۳۰	

۵ عزیزانم خط تقارن شکل های داده شده را رسم کنید.



به چند حالت می توان با سکه های ۵۰ ریالی و ۱۰۰ ریالی ، سکه ی ۲۰۰ ریالی را درست کرد؟

همه ی عدد های سه رقمی را که یکان آن ها ۰، ۷، ۵ و رقم دهگان آن ها ۹ و رقم صدگان آن ها ۴ یا ۸ باشد را بنویسید.



# جزوه سیپی

عزیزم باز شده ی یک مکعب را رسم کنید.

۹

یک ریال ایران به اندازه ی ۱۰۰۰ لیره ی کشور قندستان ارزش دارد ، ۴ ریال ایران با ارزش تر است یا ۴۵۰۰ لیره ی قندستان

ریال	
لیره	

۱۰

جاهای خالی را پر کنید.

الف ( یک کیلوگرم ..... گرم است.

ب ( ۲۰۰۰ ریال برابر است با ..... تومان.

پ ( ..... سانتی متر برابر با ۱ متر و ۲۷ سانتی متر.

ت ( کوچک ترین واحد اندازه گیری طول ..... است.

ث ( طول کلاس با ..... اندازه گیری می شود.

ج ( وسیله ای که برای کشیدن دایره استفاده می شود.....

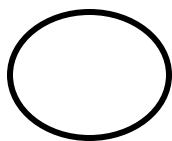
خ (  $\frac{1}{4}$  ساعت برابر است با ..... دقیقه

چ ( به زاویه راست ..... هم گفته می شود.

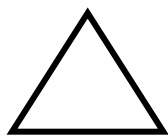
ح ( در کشیدن دایره دهانه ی پرگار را به اندازه ی ..... باز می کنیم.

۱۱

برای شکل های داده شده کسر های مناسب بنویسید.



.....



.....=.....

.....=.....

۱۲	<p>برای کسر های داده شده دو کسر مساوی به همراه شکل بکشید.</p> <p><math>\frac{1}{3} = \dots\dots\dots = \dots\dots\dots</math></p> <div style="display: flex; justify-content: space-around; align-items: center;"> <div style="border: 1px solid black; width: 150px; height: 50px; margin: 5px;"></div> <div style="border: 1px solid black; width: 150px; height: 50px; margin: 5px;"></div> <div style="border: 1px solid black; width: 150px; height: 50px; margin: 5px;"></div> </div>
۱۳	<p>دایره ای به قطر ۴ سانتی متر به وسیله ی پرگار بکشید.</p>
۱۴	<p>عدد های داده شده را روی محور نشان دهید.</p> <div style="text-align: center;"> <p>الف) <math>\frac{3}{4}</math> واحد بعد از عدد ۳</p> <p>ب) <math>\frac{1}{4}</math> واحد مانده به عدد ۴</p> </div> <h1 style="text-align: center; color: blue; opacity: 0.5;">حزوه سیتی</h1>
۱۵	<p>از علامت های (<math>&lt; = &gt;</math>) در جا های خالی استفاده کنید.</p> <p>۲ واحد و <math>\frac{1}{10}</math> واحد <input type="checkbox"/> ۲ واحد و <math>\frac{4}{10}</math> واحد</p> <p>۲۰۰ میلی متر <input type="checkbox"/> ۲۰ سانتی متر</p> <p>۵۰۰۰ تومان <input type="checkbox"/> ۱۰۰ ریال + ۳۰۰ ریال</p> <div style="text-align: right;"> <p><math>\frac{4}{4} \square 1</math></p> <p><math>\frac{2}{3} \square \frac{5}{3}</math></p> </div>
<p>موفق باشید - علی پناهی</p>	